



**Школьный тур олимпиады по географии 7-ой класс ВОПРОСЫ 18 ноября 2014**

Каково расстояние по прямой от пункта А (перекресток дорог) до пункта В (вышей точки Märdimäe) \_\_\_\_\_ 1 б

Какова относительная высота холма Pedäjämäe от его основания в точке D? \_\_\_\_\_ 1 б

Отметь на карте буквой Е самый крутой склон \_\_\_\_\_ 1 б

**2. Определи по географическим координатам название острова, страну, которой он принадлежит и столицу этой страны.** 9 б

Координаты	Остров(а)	Страна	Столица
2° S 92° W			
17° S 4° W			
19° N 167° E			

**3. Летние Олимпийские игры 2016 года состоятся в Рио-де-Жанейро.** 4 б

В каком государстве состоятся Олимпийские игры 2016 года? \_\_\_\_\_

Как называется столица этого государства? \_\_\_\_\_

Какова численность населения этого государства? \_\_\_\_\_

Вычисли расстояние по прямой между столицей этого государства и Рио-де-Жанейро.

\_\_\_\_\_

**4. Заполни пропуски** 4 б

Самая восточная точка Австралии удалена от нулевого меридиана на \_\_\_\_\_ градусов.

Самая западная точка Австралии удалена от нулевого меридиана на \_\_\_\_\_

градусов. Протяженность Австралии с запада на восток составляет \_\_\_\_\_ градусов,

или \_\_\_\_\_ км (длина одного градуса 20-ой параллели примерно 100 км).

**5. Каким уездам Эстонии соответствуют эти характеристики?** 6 б

Центр этого уезда Пайде. \_\_\_\_\_ 1 б

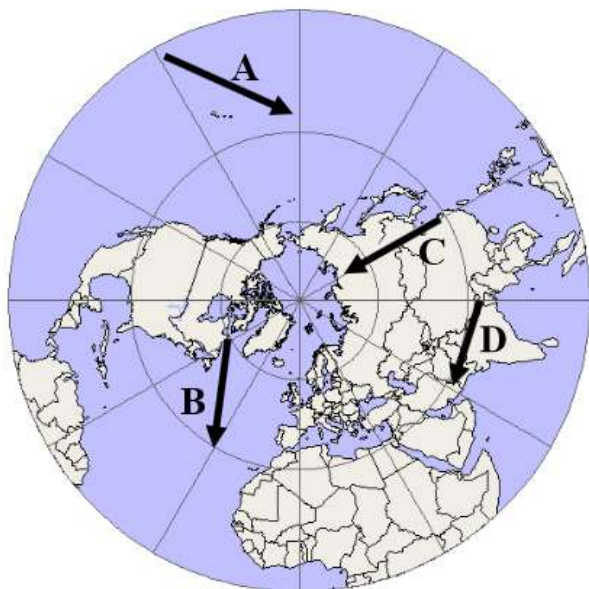
В этом уезде находится национальный парк Карула. \_\_\_\_\_ 1 б

В этом уезде находится возвышенность Сакала. \_\_\_\_\_ 1 б

В этом уезде находится остров Вильсанди. \_\_\_\_\_ 1 б

Этот уезд назывался когда-то Уганди. \_\_\_\_\_ 1 б

Этот уезд возник только во второй половине 20-го века \_\_\_\_\_ 1 б



6. Какие направления показывают стрелки на карте? 2 б

A- \_\_\_\_\_

B- \_\_\_\_\_

C- \_\_\_\_\_

D- \_\_\_\_\_

7. Выбери три части света. Найди наивысшие вершины этих частей света, их высоту и географические координаты вершин. Заполни таблицу. 12 б





Часть света	Вершина	Высота	Координаты

8. Соедини подходящие пары

6 б

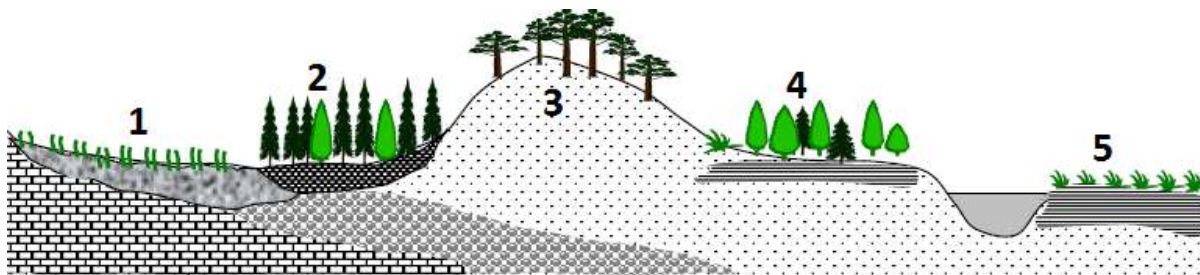
- |                                       |   |
|---------------------------------------|---|
| a) Фабиан (Фаддей) фон Беллингсгаузен | __ обогнул южную оконечность Африки           |
| b) Роальд Амурдсен                    | __ достиг побережья Ньюфаундленда             |
| c) Фернан Магеллан                    | __ первым достиг Южного полюса                |
| d) Джеймс Кук                         | __ открыл для европейцев Австралию            |
| e) Джон Кабот                         | __ открыл Антарктиду                          |
| f) Васко да Гама                      | __ возглавлял первое кругосветное путешествие |

9. Заполни ячейки под картинками. В первую ячейку напиши, материк это или часть света. Во вторую ячейку напиши название материка или части света. 4 б

			
<input type="text"/>	<input type="text"/>	<input type="text"/>	<input type="text"/>
<input type="text"/>	<input type="text"/>	<input type="text"/>	<input type="text"/>

10. Чем отличаются части света от материков? 2 б

11. Напиши перед каждым термином соответствующий ему на картинке номер. Добавь краткую характеристику каждого растительного сообщества (виды растений, грунт, водный режим и пр). 10 б



№	Термин	Краткая характеристика	
	бор-беломошник		2 б
	Ельник		2 б
	Смешанный лес		2 б
	Пойменный луг		2 б
	Суходольный луг		2 б

Всего 72 балла